

Clasa a II-a

Doamnelor învățătoare / Domnilor învățători

Jocul-Concurs European Cangurul se extinde și la clasa I atât în România cât și în alte țări. Bineînțeles există diferențe destul de mari de abordare a curriculum-ului școlar, dar noi cu ajutorul dumneavoastră vom încerca să adaptăm subiectele la actualele direcții ale învățământului primar românesc.

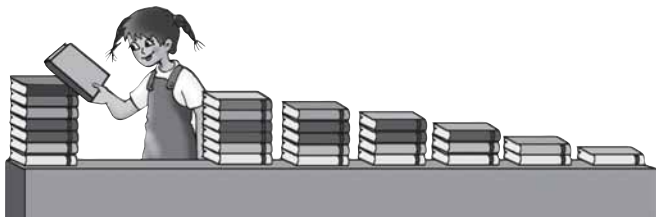
Pentru început ne punem problema dacă elevii din clasele I și a II-a sunt pregătiți de concurs, iar dacă nu, cum putem să-i ajutăm. Ne-am gândit să vă trimitem câte un set model de subiecte care pot fi abordate de copii în clasă sau acasă.

Jocul chiar în etapa națională se poate desfășura în clasă, în timpul orei de matematică și fără organizare specială. Este adevărat că poate fi utilă și o organizare aparte care să familiarizeze un pic elevii mici cu atmosfera de concurs național și internațional. Ne vom strădui să trimitem elevilor o revistă foarte interesantă adresată exact celor mici care să-i apropie și mai mult de matematică, de jocurile minții, de procesele de creație. Jocul-Concurs Cangurul pentru clasele I-II este mult mai mult joc decât concurs. De aceea, nu ne-am propus să organizăm clasamente pe baza unor punctaje complicate și nici etape de baraj. Fiecare problemă bine rezolvată va primi 1 punct. Elevii cu punctaj 20 – 24 vor primi calificativul Excelent, cei cu punctaj 15-19 vor primi Foarte Bine, iar cei cu 10-14, Bine. Nu se acordă alte calificative. Doamnelor și domnilor, vă rugăm să corectați dumneavoastră testele și să ne trimiteți foile elevilor abia peste o săptămână, în plicul special pe care-l veți găsi în coletul cu subiectele. Rămâne la latitudinea dumneavoastră să le comunicați elevilor și părinților rezultatele și concluziile.

Vă rugăm să ne trimiteți observațiile dumneavoastră despre subiecte, despre felul în care copiii, părinții și școala primesc Cangurul. Scrisorile dumneavoastră ne vor ajuta să perfecționăm jocul-concurs.

Vă mulțumesc,
Președinte FIES, dr. Boris Singer

1.




Câte cărți are Andreea?


A) 28 B) 29 C) 30 D) 31 E) 32

2. Girafele au câștigat cursa, urmate imediat de toți struții. Dacă leiul a ajuns ultimii, al câtelea a ajuns cerbul?

A) 3 B) 4 C) 5 D) 6 E) 7



3. Cât cântărește ursul?



A)  B)  C)  D)  E) 

4. Reconstituiți figura.

- A)

3	1
5	4
2	6

 B)

3	5
4	1
2	6

 C)

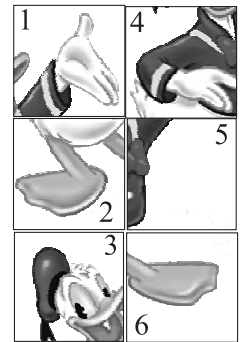
1	3
5	2
4	6

 D)

3	1
4	5
2	6

 E)

1	3
2	4
6	5



5. Capra are 20 de verze. Câte îi rămân după ce hrănește iezii?

- A) 3 B) 4 C) 5
D) 6 E) 7




6. Care detaliu nu aparține pozei?

- A) B) C) D) E)



7.




Câte animale sunt în arenă?

- A) 4 B) 10 C) 13
D) 22 E) 16


8. Care iepuraș ajunge la morcovi?

- A) B) C) D) E)

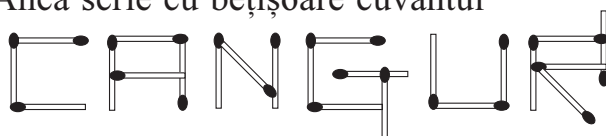


9. Câte cărămizi lipsesc?

- A) 5 B) 6
C) 7 D) 8
E) 9






10. Anca scrie cu bețișoare cuvântul








De câte bețișoare are nevoie pentru a-și scrie numele?





- A) 12 B) 13 C) 14 D) 15 E) 16

11. Care este mai scund?




- A)  B)  C)  D)  E) 

12. Cine trage sfoara legată de os?

- A)  B)  C) 
D)  E) nici unul



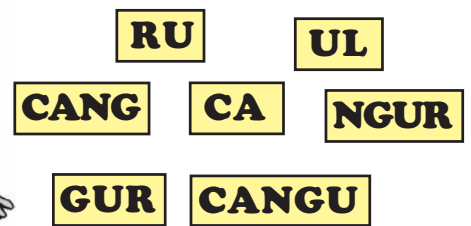
13. Câte numere de două cifre se pot forma cu cifrele:




- A) 5 B) 9 C) 8 D) 3 E) 6

14. Care este numărul cel mai mic de cartonașe din care se poate forma cuvântul **CANGURUL**?

- A) 2 B) 3 C) 4
D) 5 E) 6



15. În câte moduri diferite pot fi combinate rochițele și pantofiorii?

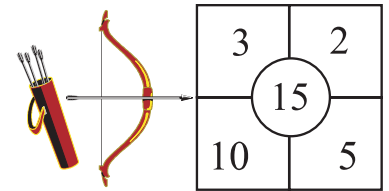


- A) 2 B) 4 C) 6 D) 8 E) 10

16. Anul trecut Mirela și Ioana aveau împreună 10 ani. Anul viitor vor avea împreună ...

- A) 11 ani B) 12 ani C) 13 ani D) 14 ani E) 15 ani

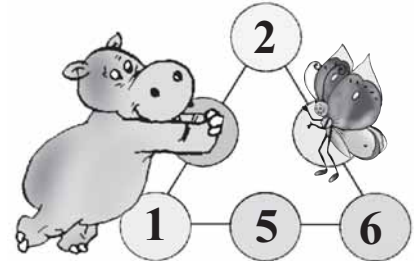
17. În câte moduri puteți obține 25 de puncte din 4 trageri?
 A) 2 B) 1
 C) 3 D) 4 E) 5




18. Câte baloane are clovnul?
 A) 8 B) 9 C) 10
 D) 11 E) 12



19. Pe ce cifră s-a așezat fluturașul dacă hipopotamul le-a completat astfel încât pe fiecare linie suma cifrelor să fie aceeași?
 A) 5 B) 6 C) 4 D) 8 E) 9



20. Cu prima literă a fiecărui animal formezi cuvântul care spune vârsta mea.




- A) zece B) trei C) șapte D) nouă E) șase

21. Câte tentacule are caracatița?
 A) 6 B) 7 C) 8 D) 9 E) 10



22.






- Ciobanii și oile lor au împreună 32 de picioare.
 Câte oi au ciobanii?
 A) 8 B) 30 C) 15 D) 6 E) 7

23. În câte moduri pot fi introduse câte două păpuși una în alta?
 A) 2 B) 7 C) 8 D) 9 E) 10



24. Ceasul arată ora  . Cu o oră și jumătate în urmă arăta:

- A)  B)  C)  D)  E) 